
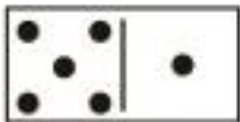



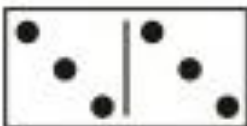
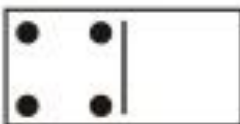
Cilja: Učenec sešteva in odšteva v množici naravnih števil do 10, vključno s številom 0.

Uporabi računske operacije pri reševanju matematičnih problemov.

Ne pozabi! PRAVILNO zapisuj števila.

NAPIŠI RAČUN IN SEŠTEJ.





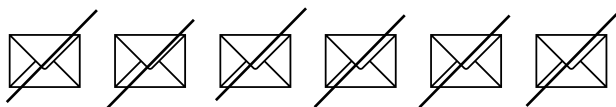
NAPIŠI RAČUN IN ODŠTEJ.





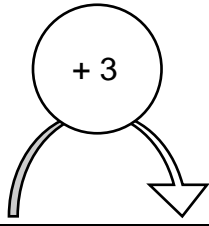









REŠI.




2	
5	
0	
7	
6	
4	



8	
6	
10	
4	
9	
5	

NATANČNO SI OGLEJ SLIKO (POVEJ RAČUNSKO ZGODBICO),
NAPIŠI RAČUN IN IZRAČUNAJ.





NAPIŠI RAČUN IN IZRAČUNAJ.



SEŠTEJ ALI ODŠTEJ.

$2 + 2 = \square$

$9 - 5 = \square$

$8 - 0 = \square$

$4 + 3 = \square$

$6 - 1 = \square$

$2 + 5 = \square$

$6 + 0 = \square$

$10 - 10 = \square$


$7 - 4 = \square$

$1 + 7 = \square$

$8 - 7 = \square$

$3 + 7 = \square$

OPAZUJ SLIKO (POVEJ RAČUNSKO ZGODBICO), ZAPIŠI RAČUN IN IZRAČUNAJ.





ZA RAČUN NARIŠI SLIKO. IZRAČUNAJ.

$$3 + 6 = \underline{\quad}$$

ZA RAČUN NARIŠI SLIKO. IZRAČUNAJ.

$$9 - 1$$